



GENIUS LOGICUS



WWW.GENIUSLOGICUS.EU

ID kod škole

ID kod učenika

Naziv škole

Ime učenika

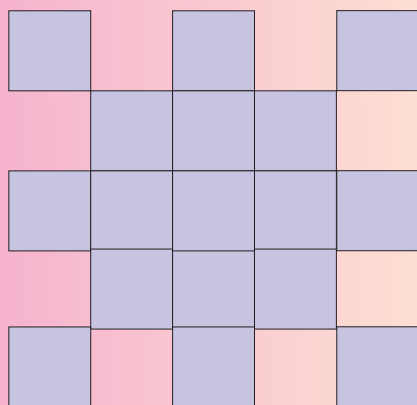
Prezime učenika

POUKA:

Zadaća za natjecanje sastoji se od četiri stranice. Naslovna strana sadrži prazna polja u koja moraš velikim tiskanim slovima pažljivo upisati podatke o sebi i svojoj školi. Polje za tvoj ID kod smješteno je u zadaći za natjecanje u gornjem dijelu svake stranice. Popuni svoj kod na svakoj stranici. Sve stranice zadaće za natjecanje imaju broj u desnom gornjem uglu. Važno je sačuvati redoslijed stranica. Kod naziva zadaće naveden je i broj bodova koji je moguće postići za ispravno rješavanje zadaće. Nije potrebno spominjati da najuspješniji natjecatelj postaje učenik koji će postići najviše bodova. Nakon rješavanja spoji stranice kancelarskom spajalicom za papir. Mjesto spajanja unaprijed je označeno u lijevom gornjem uglu. Kod rješavanja možeš koristiti olovke ili kemijske u boji.

KVADRATI - 1 bod

Koliko raznih kvadrata ćeš nabrojiti na slici? Rezultat upiši u lentu desno dolje.

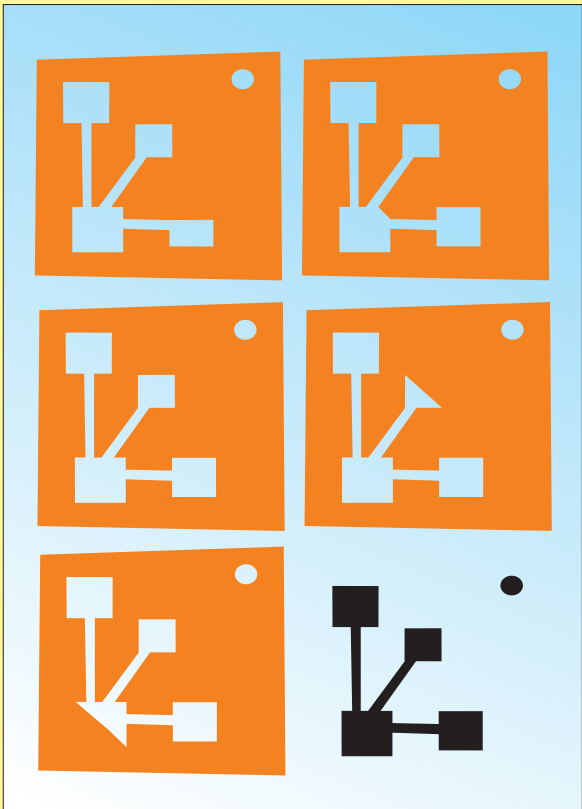


Rješenje:



ISTA SLIKA – 4 boda

Koja od pet narančastih slika odgovara crnoj slici dolje desno? Sliku zaokruži.



GLAZBENI INSTRUMENTI – 1 bod

Koji glazbeni instrument ne spada među ostale? Ne pripadajući instrument zaokruži.



ZBROJ - 1, 2, 3, 4, 5 bodova

Na koliko načina je moguće postići zbroj 9 kad zbrajamo tri brojke?

6 2

5

1 3

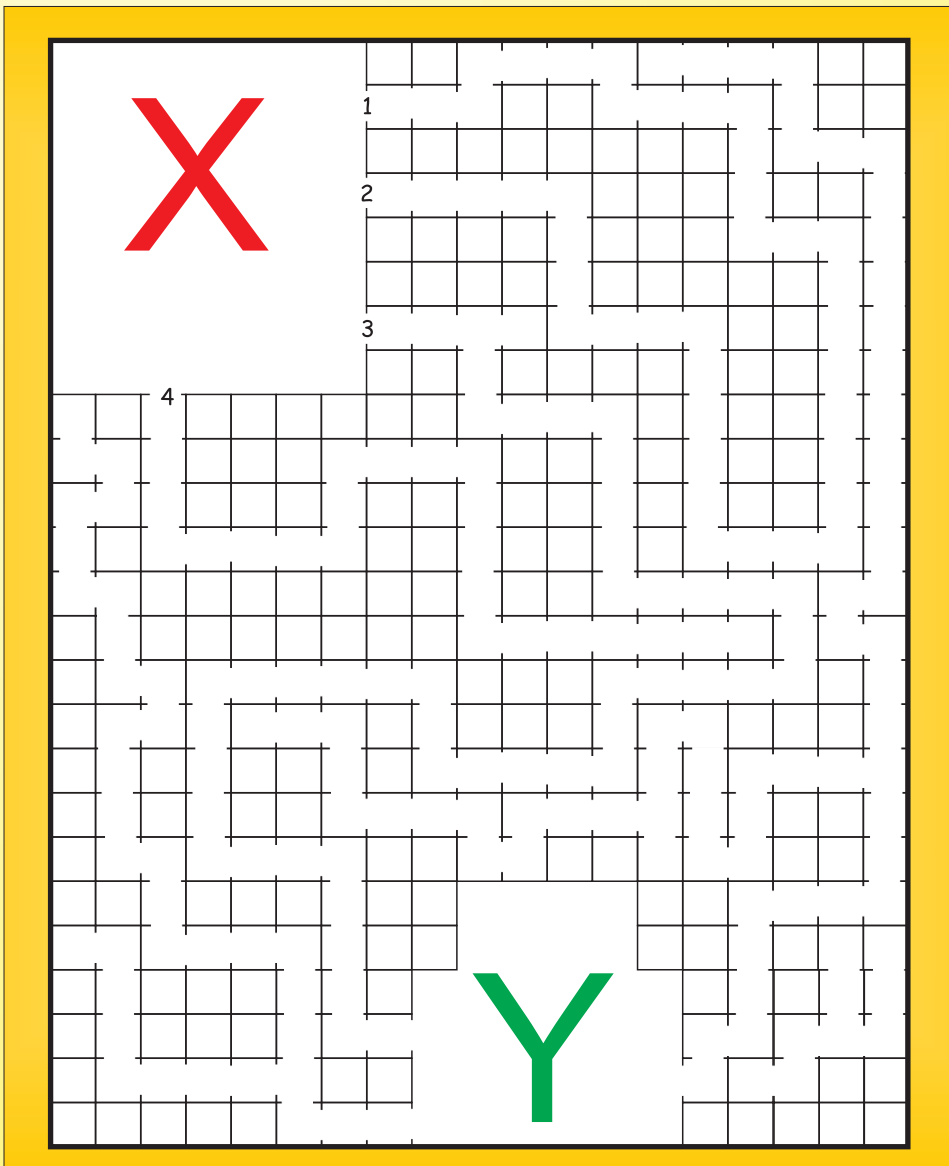
0

4 7

| | | | | |
|--|---|--|---|--|
| | + | | + | |
| | + | | + | |
| | + | | + | |
| | + | | + | |
| | + | | + | |

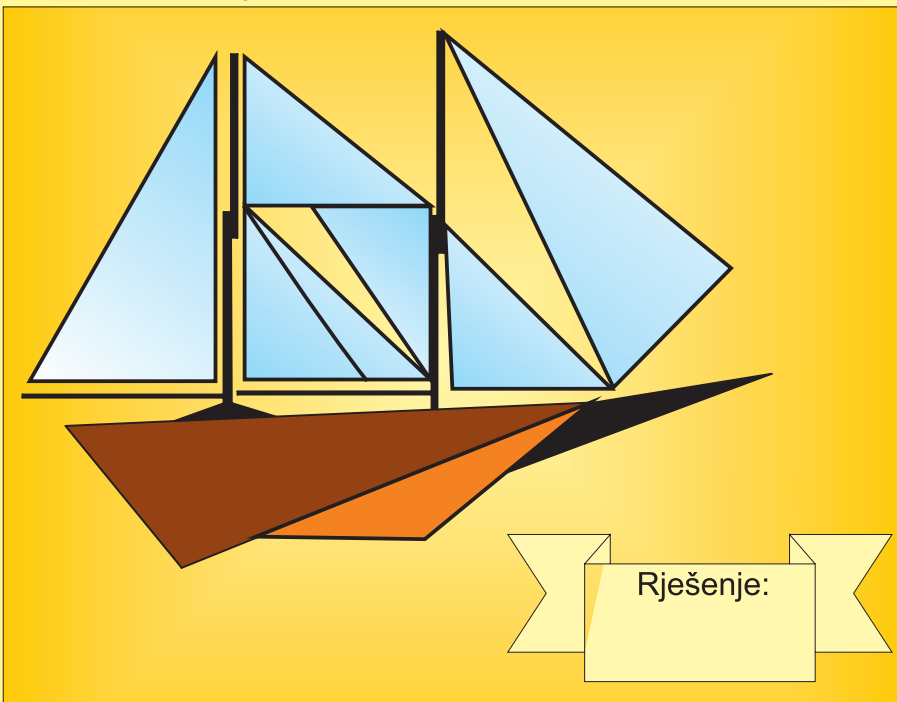
LABIRINT – 2 boda

Prođi labirintom iz mjesta označenog slovom X u mjesto označenog slovom Y.




BROD – 5 bodova

Koliko trokuta ćeš nabrojiti na slici? Ispravan broj upiši u lentu desno dolje.




NAMIRNICE – 1 bod

Koja od slika ne spada među ostale? Ne pripadajuću sliku zaokruži.



IGRALIŠTE S PJESKOM - 1, 2, 3, 4, 5 bodova

Prva slika je cijela nacrtana ispravno. Na svakoj od sljedećih slika uvijek nešto nedostaje. Zaokruži detalje koji nedostaju.



ŠPORT - 3 boda

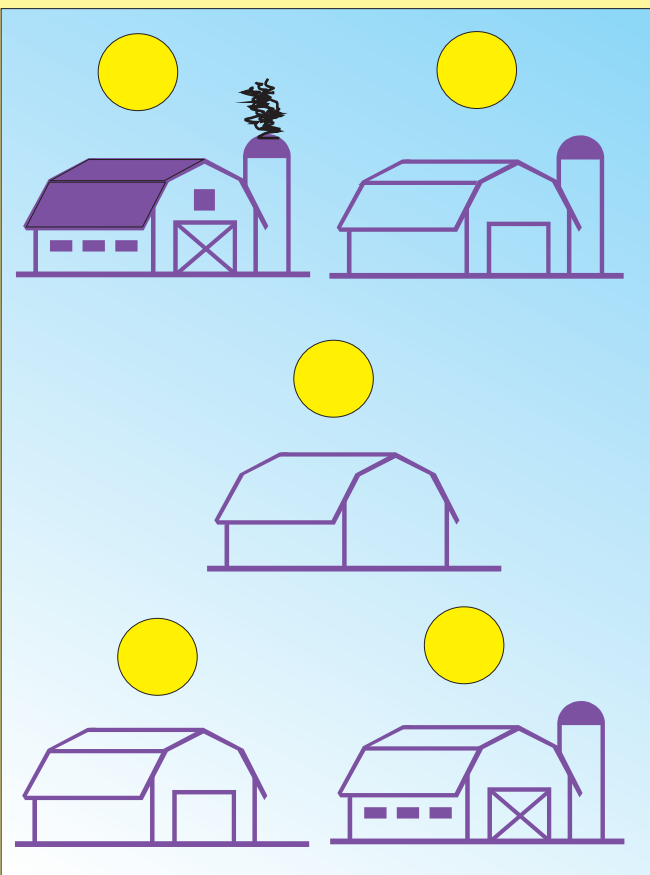
Uzmi sva mala slova i složi od njih naziv jednog športa. Ispravno rješenje upiši u lentu ispod slike.



Rješenje:

GRADNJA – 2 boda

Poredaj gradnju kućice od početka do kraja. Redne brojeve upiši u prazne kružiće iznad kućica.



PANDA - 3 boda


Koliko kružića ćeš naći na slici pande? Brojku koja označava broj kružića upiši u lentu lijevo dolje.



Rješenje:

ŽIVOTINJE – 1 bod

Koja životinja ne spada među ostale? Sliku zaokruži.



MATEMATIKA – 2 boda

Nađi rješenje matematičke zadaće i ispravan rezultat zaokruži među brojevima s desne strane.

$$37 + 12 = 878749944$$

$$51 - 21 = 300010321$$

$$10 \times 4 = 444010414$$

$$61 + 28 = 021301899$$

$$20 - 5 = 598615033$$

$$76 - 42 = 548340879$$

$$90 + 15 = 289105268$$