



GENIUS LOGICUS



WWW.GENIUSLOGICUS.EU

ID šole

ID učenca

Ime šole

Ime učenca

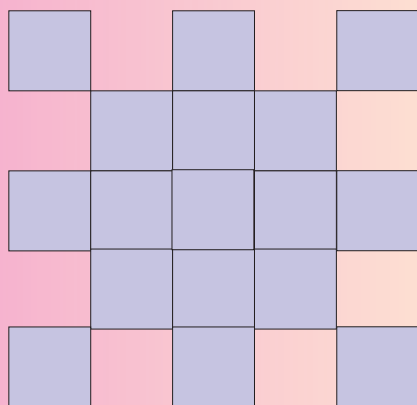
Priimek učenca

NAVODILO:

Pola s tekmovalnimi nalogami ima štiri strani. Na naslovni strani so prazna polja, v katera moraš s tiskanimi črkami pazljivo napisati podatke o sebi in tvoji šoli. Polje za tvojo tekmovalno številko (ID učenca) je na zgornjem delu vsake strani. Svojo številko tekmovalca (ID učenca) vpiši na vsaki strani. Vse strani pole so oštevilčene v desnem zgornjem kotu. Pomembno je ohraniti zaporedje strani. Pri imenu naloge je napisano tudi število točk, ki jih lahko dobiš za pravilno rešitev. Najboljši tekmovalec je seveda tisti, ki zbere največje število točk. Po koncu reševanja posamezne strani spni s sponko. Mesto za sponko je označeno v levem zgornjem kotu. Pri reševanju lahko uporabljaš barvice ali barvna peresa.

KVADRATI – 1 točka

Koliko različnih kvadratov lahko našteješ na sliki? Rezultat vpiši v pas desno spodaj.

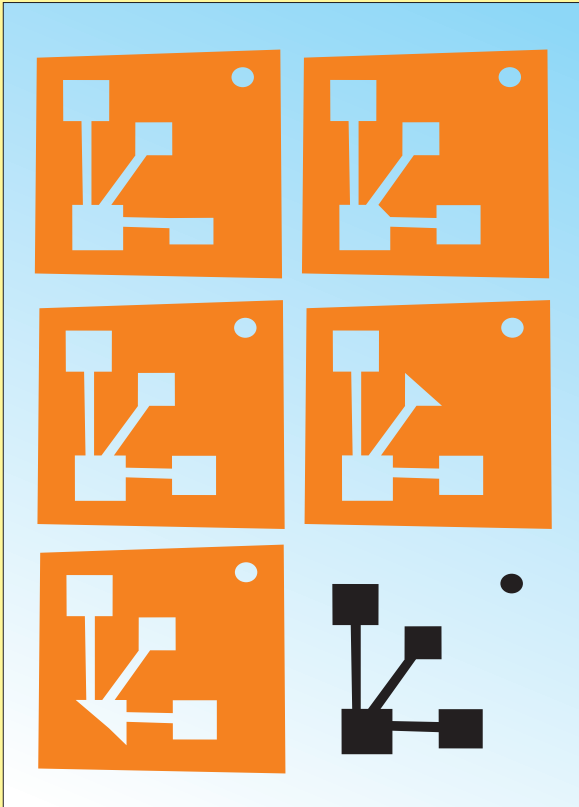


Rešitev:



ENAKA SLIKA – 4 točke

Katera izmed petih oranžnih slik odgovarja črni sliki desno spodaj? Sliko obkroži.



SEŠTEVEK – 1, 2, 3, 4, 5 točk

Na koliko načinov lahko dosežemo vsoto 9, če seštejemo tri števila?

6 2

5

1 3

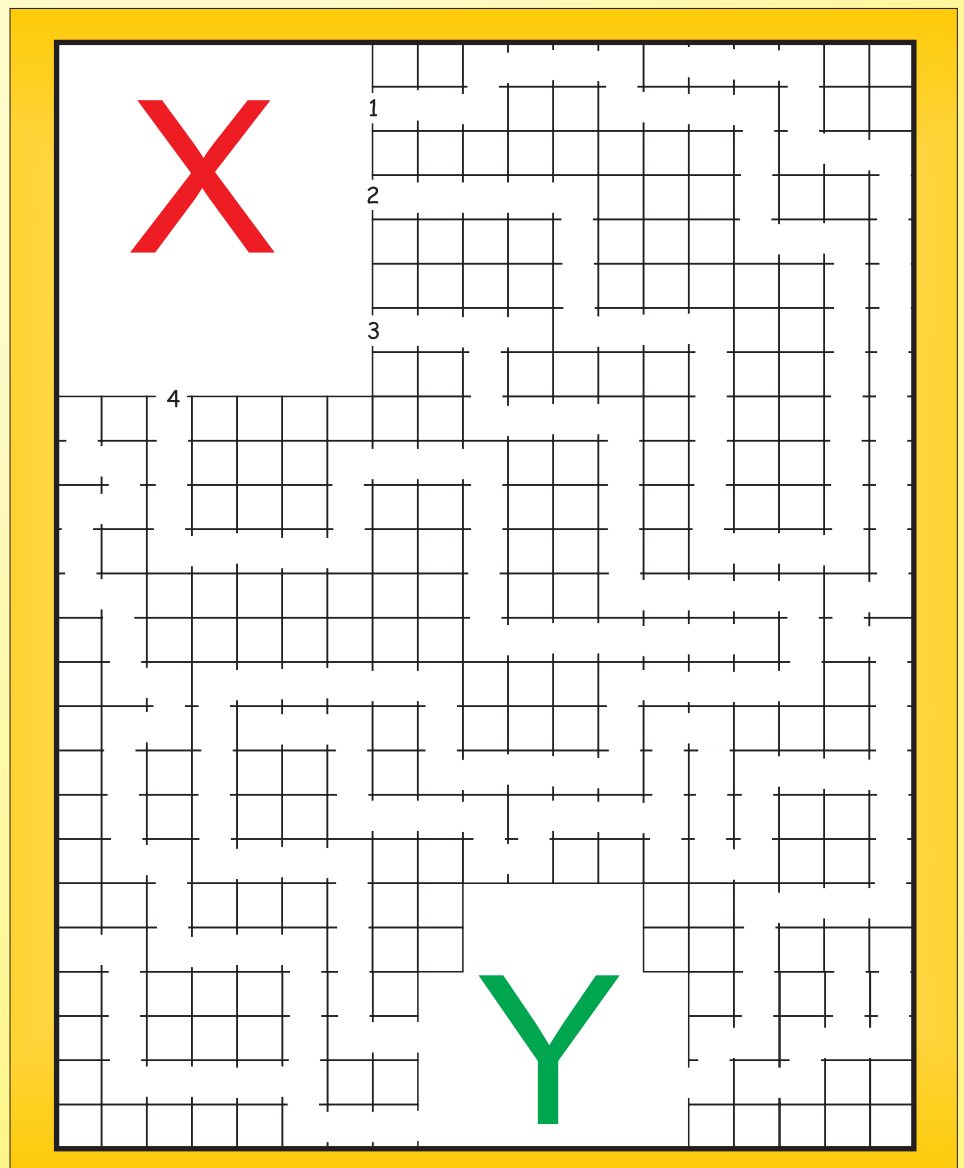
0

4 7

	+		+	
	+		+	
	+		+	
	+		+	
	+		+	

LABIRINT – 2 točki

Najdi pot skozi labirint z mesta, označenega s črko X, na mesto, ki je označeno s črko Y.



GLASBILA – 1 točka

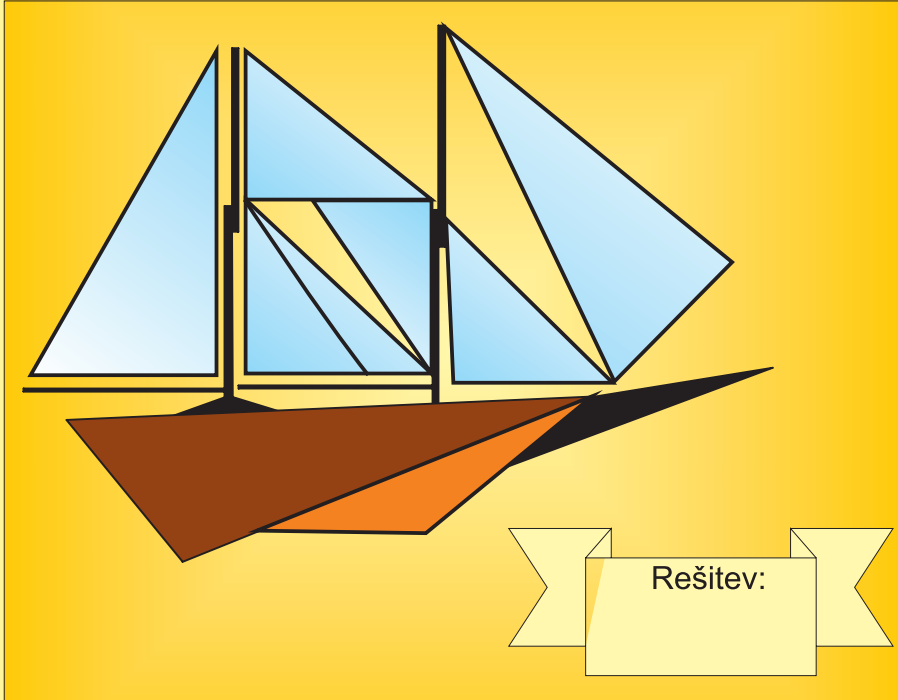
Katero glasbilo ne spada med ostala? Izstopajoče glasbilo obkroži.






LADJA – 5 točk

Koliko trikotnikov lahko najdeš na sliki? Pravilno število vpiši v pas desno spodaj.




ŽIVILA – 1 točka

Katero slika ne spada med ostale? Izstopajočo sliko obkroži.



PESKOVNIK – 1, 2, 3, 4, 5 točk

Prva slika je cela narisana pravilno. Na vsaki naslednji sliki nekaj manjka. Obkroži manjkajočo podrobnost.



ŠPORT – 3 točke

Izberi vsa majhne črke in iz njih sestavi ime športa. Pravilno rešitev vpiši v pas pod sliko.

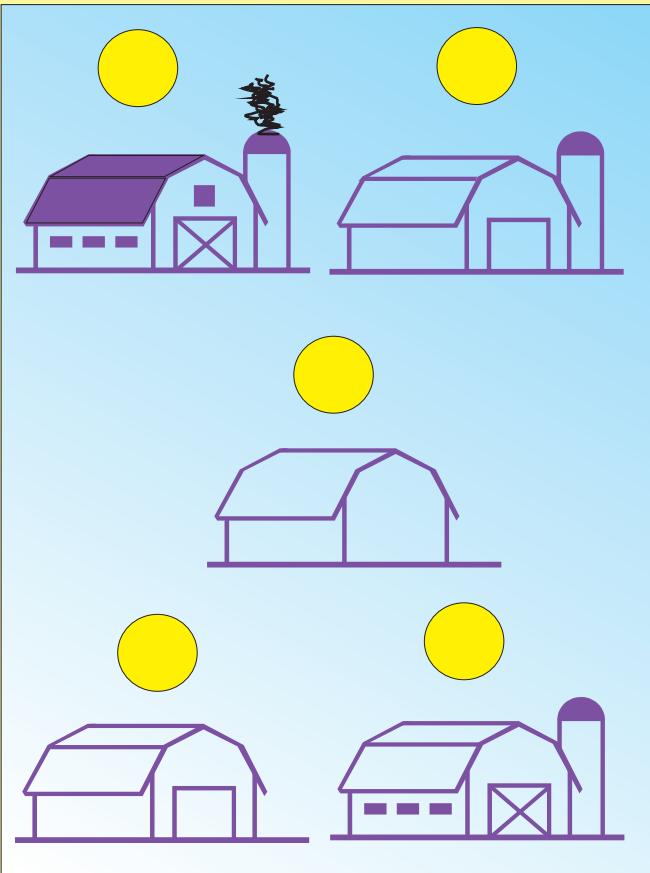


Rešitev:

Rešitev:

**GRADNJA – 2 točki**


Razvrsti gradnjo hiše od začetka do konca. Zaporedna števila vpiši v prazne krožce nad hišami.

**PANDA – 3 točke**

Koliko krožcev lahko najdeš na sliki pande? Število krožcev vpiši v pas levo spodaj.

**ŽIVAL – 1 točka**

Katera žival ne spada med ostale? Sliko obkroži.

**MATEMATIKA – 2 točki**

Reši matematično nalogo in pravi rezultat najdi in obkroži med števili na desni.

$$37 + 12 = 878749944$$

$$51 - 21 = 300010321$$

$$10 \times 4 = 444010414$$

$$61 + 28 = 021301899$$

$$20 - 5 = 598615033$$

$$76 - 42 = 548340879$$

$$90 + 15 = 289105268$$