




GENIUS LOGICUS



WWW.GENIUSLOGICUS.EU

Codul ID al școlii

Codul ID al elevului

Denumirea școlii

Prenumele lelevului

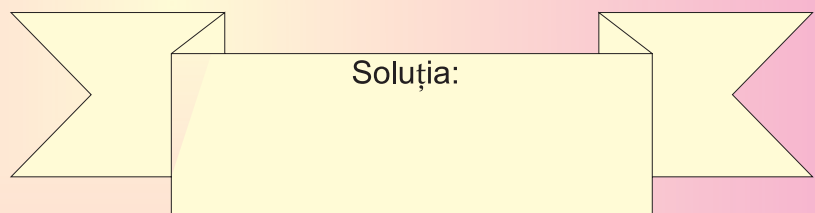
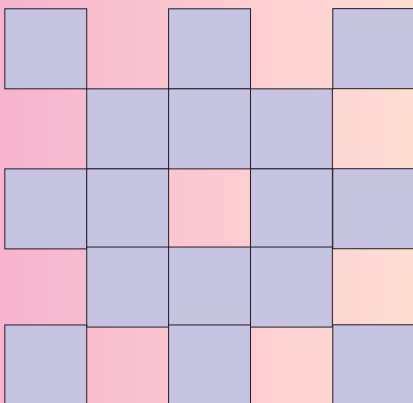
Numele elevului

INDICAȚII:

Subiectele de concurs sunt pe patru pagini. Prima pagină conține câmpuri libere în care trebuie cu atenție să înscrii cu litere de tipar datele cu privire la tine și la școala ta. Câmpul pentru codul ID al tău, se află în partea de sus al fiecărei pagini cu subiecte. Completează codul tău pe fiecare pagină. Toate pagini cu subiecte sunt numerotate în colțul dreapta sus. Este important să se respecte ordinea paginilor. Imediat după denumirea subiectului sunt trecute numărul de puncte, care pot fi obținute pentru soluția corectă. Este inutil să amintim că, cel mai bun concurent va fi cel care obține cel mai mare număr de puncte. După rezolvare, paginile cu probleme propuse unește cu agrafa în locul marcat stânga sus. În cadrul rezolvărilor poți folosi creioane sau pixuri cu culori diferite.

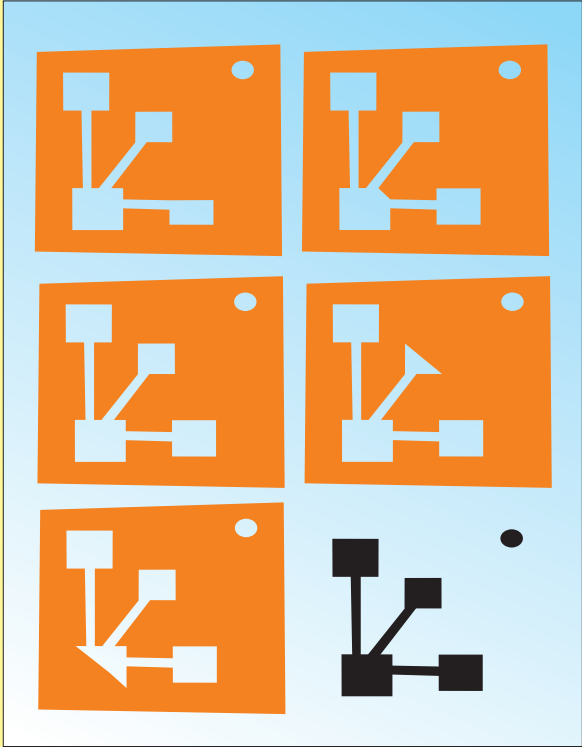
PĂTRATE – 1 punct

Câte pătrate diferite găsești în figură? Rezultatul înscrie în banda dreapta jos.





IMAGINEA EGALĂ – 4 puncte
Care dintre cele cinci imagini portocalii nu corespunde cu imaginea neagră din dreapta jos? Încercuiește imaginea respectivă.



INSTRUMENTE MUZICALE – 1 punct
Care dintre instrumentele muzicale nu se potrivește cu celelalte. Încercuiește instrumentul nepotrivit.



ADUNARE - 1, 2, 3, 4, 5 puncte
Dacă adunăm trei numere, în câte cazuri obținem rezultatul 9?

6 2

5

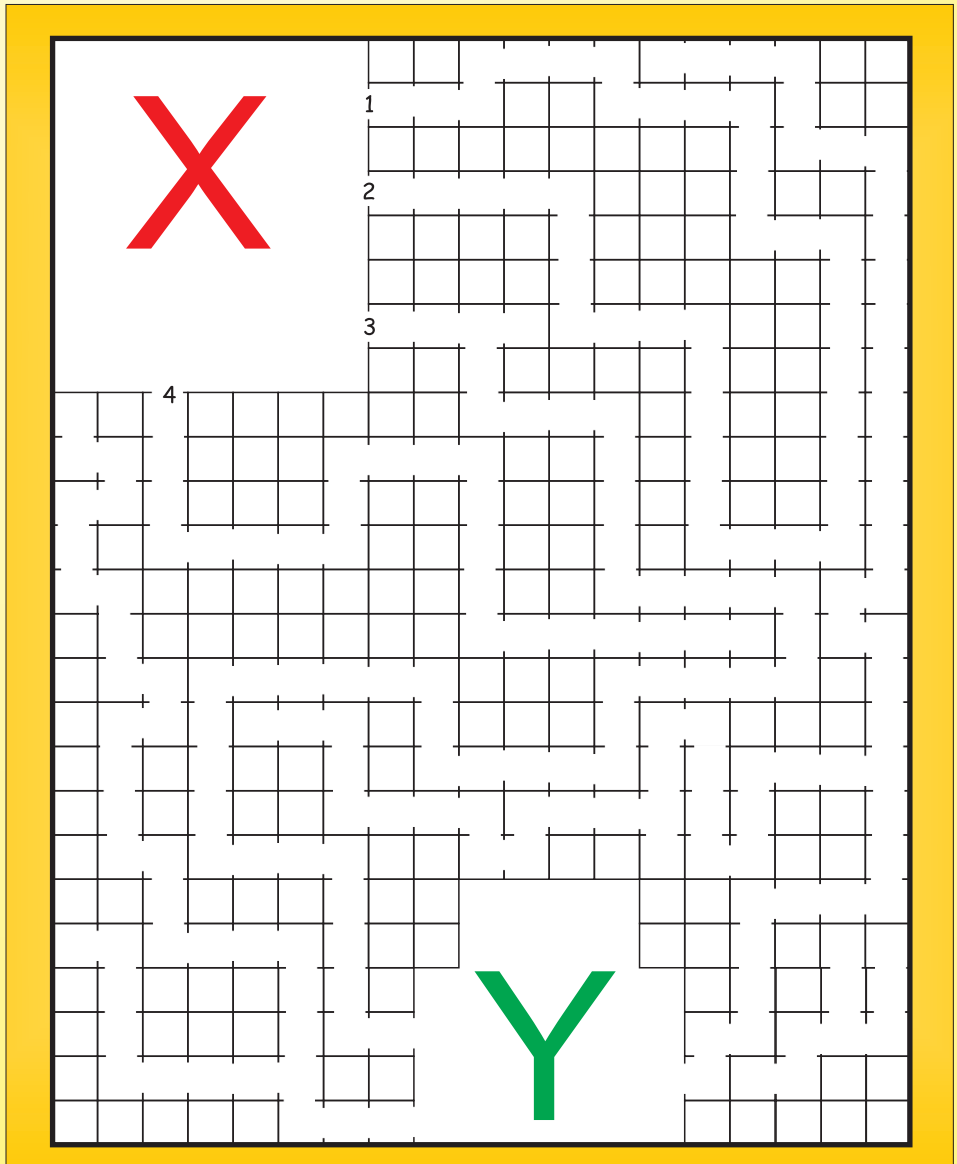
1 3

0

4 7

	+		+	
	+		+	
	+		+	
	+		+	
	+		+	

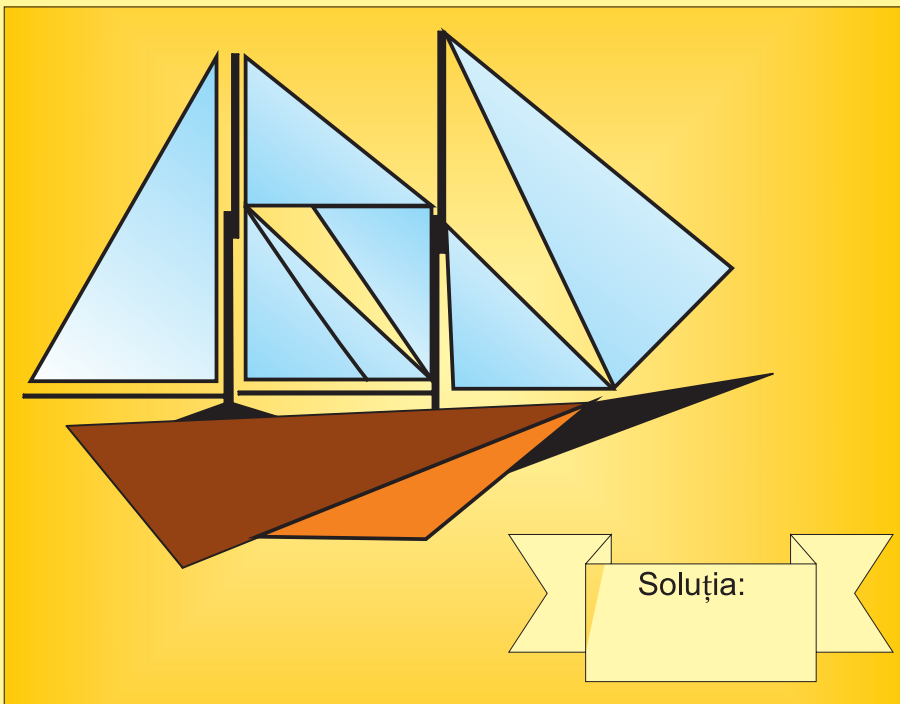
LABIRINT – 2 puncte
Parcurge labirintul din locul notat cu litera X în locul notat cu litera Y.






NAVĂ – 5 puncte

Câte triunghiuri găsești în figură? Numărul lor corect înscris în banda dreapta jos.




ALIMENTE – 1 punct

Care dintre imagini nu se potrivește cu celelalte? Încercuiește imaginea nepotrivită.



GROAPA CU NISIP – 1, 2, 3, 4, 5 puncte

Prima imagine este desenată corect. În următoarele, de fiecare dată, lipsește ceva. Încercuiește detaliu care lipsește.



SPORT – 3 puncte

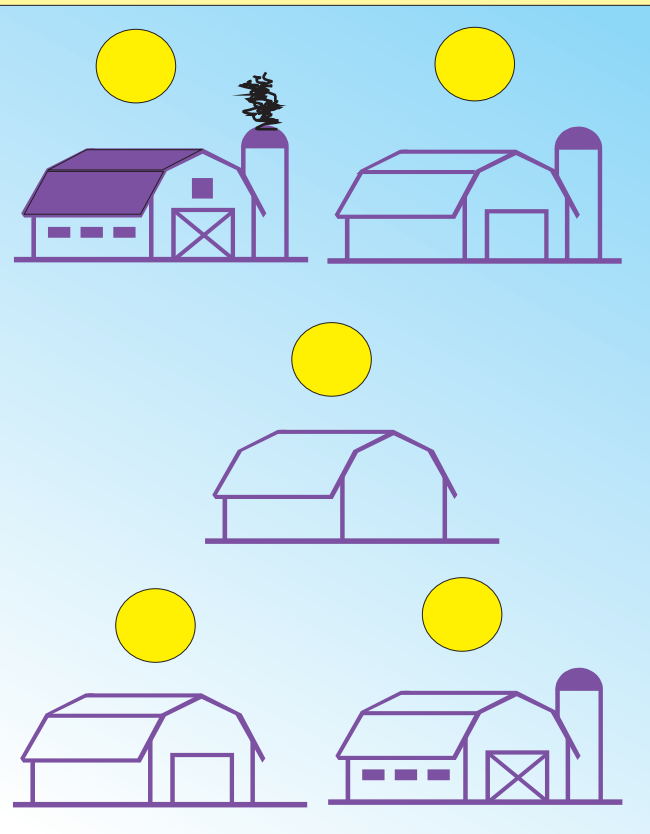
Din toate litere mici formează denumirea unei discipline sportive. Soluția corectă înscris în banda de sub figură..






CLĂDIRE – 2 puncte

Pune în ordine construcția căsuței de la început până la sfârșit. Numere de ordine înscrie în cerculețe libere deasupra căsuței.




PANDA – 3 puncte

Câte cerculețe găsești în imaginea cu panda? Numărul care reprezintă numărul cerculețelor înscrie în banda stânga jos.



ANIMALE – 1 punct

Care dintre animale nu se potrivește cu celelalte?



MATEMATICĂ – 2 puncte

Rezolvă problema matematică și rezultatul corect încercuiește din numere de pe partea dreaptă.

$37 + 12 =$	878749944
$51 - 21 =$	300010321
$10 \times 4 =$	444010414
$61 + 28 =$	021301899
$20 - 5 =$	598615033
$76 - 42 =$	548340879
$90 + 15 =$	289105268